

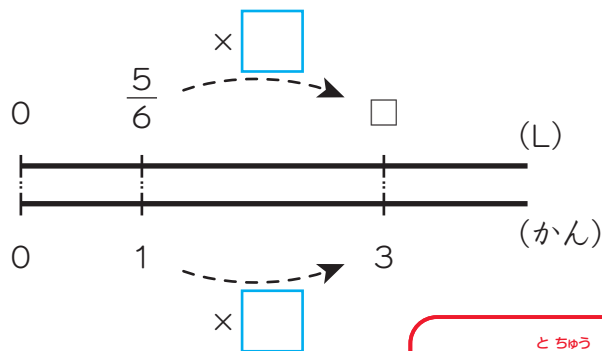
## 分数 × 整数②

## 第1クォーター

油が1かんに $\frac{5}{6}$ Lずつ入っています。3かんでは何Lになりますか。

式

$$\frac{5}{6} \times 3 = \frac{5 \times \cancel{3}}{\cancel{6}} = \frac{5 \times \square}{\square} = \square$$

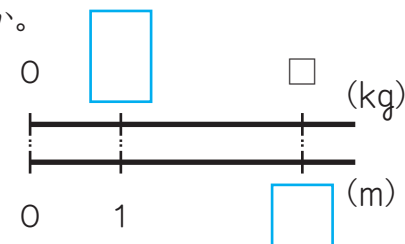


答え [                    ]

## 第3クォーター

ミラン・マチュワン選手が、次の試合に向けて練習しています。1mの重さが $\frac{5}{18}$ kgのトレーニング用のゴムチューブを使っています。このゴムチューブ3mの重さは何kgですか。

式



答え [                    ]

## 第2クォーター

計算をしましょう。

①  $\frac{2}{9} \times 3$

②  $\frac{1}{8} \times 6$

③  $\frac{7}{12} \times 8$

④  $\frac{5}{7} \times 7$



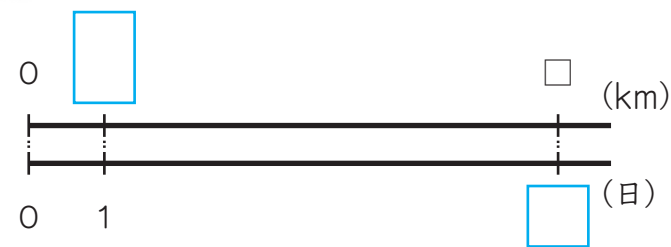
とちゅう  
計算の途中で約分  
できるときは、約  
分してから計算す  
ると簡単です。

目標に  
向かって、  
ファイト!



## 第4クォーター

ケビン・ジョーンズ選手は、1日に $\frac{15}{7}$ kmジョギングをしようと思っています。これを1週間毎日続けると何km走るようになりますか。



式

答え [                    ]